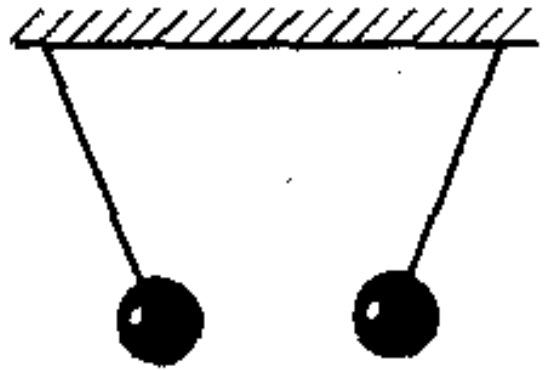
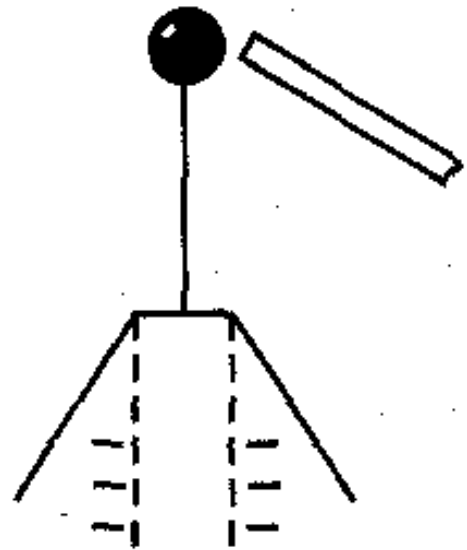


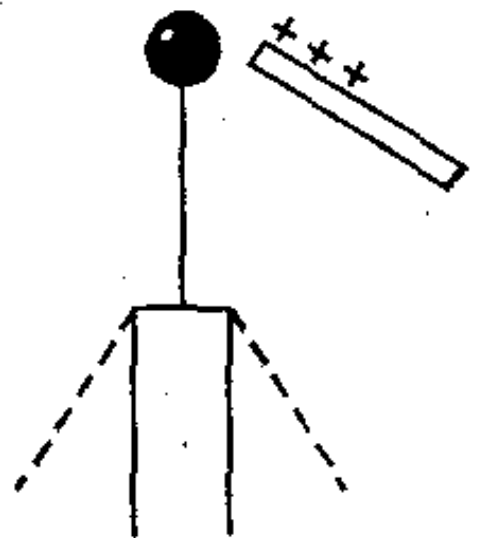
1. а) Что можно сказать о зарядах данных шариков? (см. рис.)



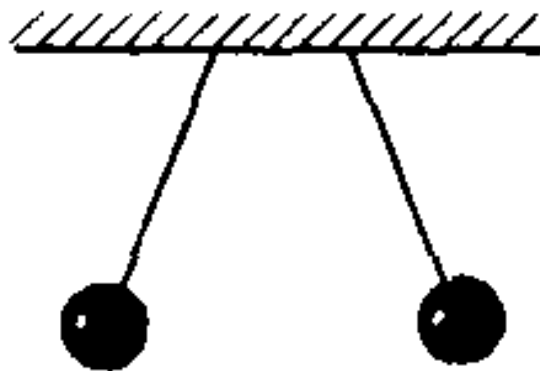
2. а) Как заряжена палочка? Пунктиром показано первоначальное положение листочков (см. рис.).



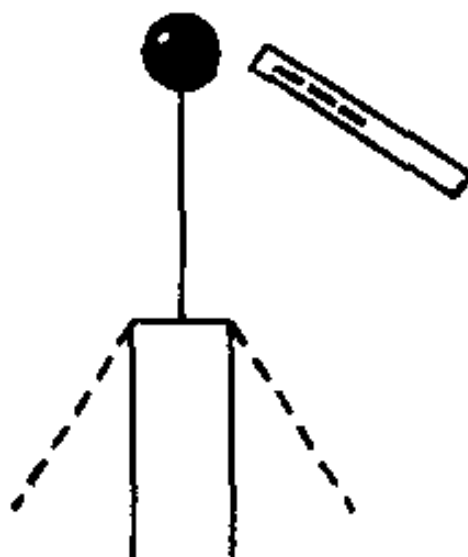
3. а) Каким зарядом был заряжен электроскоп? Пунктиром показано первоначальное положение листочков (см. рис.).



4. а) Что можно сказать о зарядах данных шариков (см. рис.)?



5. а) Каким зарядом заряжен электроскоп? Пунктиром показано первоначальное положение листочков (см. рис.).



6. а) Что можно сказать о зарядах шарика и палочки (см. рис.)?

